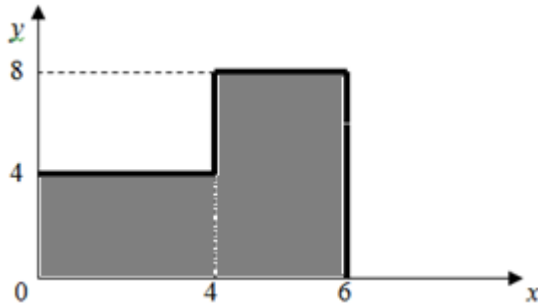
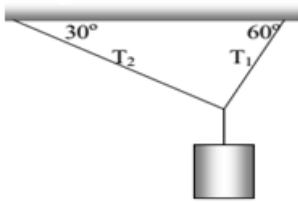


**SOAL KESEIMBANGAN BENDA TEGAR  
(PERTEMUAN 5)**

1. Tentukan koordinat titik berat dari bangun berikut !

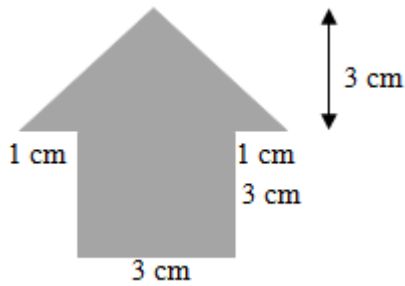


2. Sebuah benda bermassa 20 kg digantung seperti pada gambar.



Jika sistem berada pada kesetimbangan, maka besar tegangan tali  $T_1$  dan  $T_2$  adalah ....

3. Tentukan letak titik berat gambar berikut !



4. Susunan empat buah kawat membentuk bangun seperti pada gambar berikut. Tentukan koordinat titik berat bangun tersebut !

